

देवमाता सी. एम.आई. पब्लिक स्कूल
अर्धवार्षिक परीक्षा 2017-18

कक्षा : II ____

हिन्दी

समय : 2 घंटे

अंक : 50

नाम : _____

क्र. सं. : _____

1. दिए गए वर्णों से स्वर वर्ण चुनकर लिखिए :

($\frac{1}{2} \times 8 = 4$)



2. सही क्रम में लिखिए :

($\frac{1}{2} \times 5 = 2\frac{1}{2}$)

ज छ झ च ज

3. वर्ण जोड़कर शब्द लिखिए :

($\frac{1}{2} \times 3 = 1\frac{1}{2}$)

क) र + स = _____

ख) प + व + न = _____

ग) त + र + क + श = _____

4. दिए गए वर्णों के मात्रा लिखिए : ($\frac{1}{2} \times 3 = 1\frac{1}{2}$)

क) इ _____ ख) ऊ _____ ग) ऋ _____

5. जोड़कर लिखिए : ($\frac{1}{2} \times 4 = 2$)

क) च + ा + ल + क _____

ख) ज + ि + ध + र _____

ग) च + ु + हि + या _____

घ) ग + ृ + ह _____

6. अंग्रेज़ी अर्थ लिखिए : ($\frac{1}{2} \times 5 = 2\frac{1}{2}$)

क) दिल = _____ ख) चावल = _____

ग) कुरता = _____ घ) दूध = _____

ङ) कब = _____

7. रेखांकित वर्ण पर उचित मात्रा लगाकर शब्द बनाइए : ($\frac{1}{2} \times 3 = 1\frac{1}{2}$)

क) मग _____ ख) कछआ _____ ग) खरबजा _____

8. 'ई' और 'उ' की मात्रा आनेवाले शब्द चुनकर लिखिए : ($\frac{1}{2} \times 4 = 2$)

बिल	नीला	चुन	काम	मूली	जूता	जुराब	कार
-----	------	-----	-----	------	------	-------	-----

ई

उ

क) _____

ख) _____

9. चित्र देखकर सही शब्द पर लगाइए :

($\frac{1}{2} \times 4 = 2$)

क)



परी

वीर

ख)



कविता

किताब

ग)



बुढिया

मुरगा

घ)



भालू

आलू

10. सही मिलान कीजिए :

($\frac{1}{2} \times 5 = 2\frac{1}{2}$)

क)



हिरण

ख)



बस

ग)



मकड़ी

घ)



माला

ङ)



मुकुट

11. चित्र का नाम लिखकर वाक्य पूरा कीजिए :

($\frac{1}{2} \times 4 = 2$)

क)



_____ तिनका लाई ।

ख)



_____ का रंग लाल है।

ग)



_____ पानी में रहता है।

घ) उपवन में



_____ है।

12. दिए गए चित्रों के नाम लिखिए :

($\frac{1}{2} \times 5 = 2\frac{1}{2}$)

क)



ख)



ग)



घ)



ङ)




13. चित्र देखकर सही शब्द पर गोला लगाइए :


($\frac{1}{2} \times 4 = 2$)


क)



- कबूतर मयूर भालू

ख)  - कुली गुड़िया पुजारी

ग)  - हाथी बकरी साथी

घ)  - तकिया नदिया डाकिया

14. सही शब्द चुनकर वाक्य पूरा कीजिए : ($\frac{1}{2} \times 5 = 2\frac{1}{2}$)

(वृक्ष, तबला, चूहा, कसरत, जल)

क) राजा _____ लाया।

ख) उधर आम का एक _____ था।

ग) झटपट _____ भर।

घ) फूलदान _____ बन गया।

ङ) चल _____ कर

15. 'आ' की मात्रा आनेवाले तीन शब्द लिखिए : ($\frac{1}{2} \times 3 = 1\frac{1}{2}$)

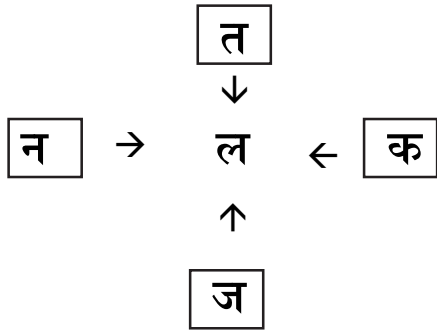
क) _____ ख) _____ ग) _____

16. शुद्ध करके शब्द दोबारा लिखिए : ($\frac{1}{2} \times 4 = 2$)

क) मलह ख) आनर ग) कीताब ग) मछिल

17. जोड़कर शब्द बनाइए :

($\frac{1}{2} \times 4 = 2$)



क) _____ ख) _____ ग) _____ घ) _____

18. 'ऊ' की मात्रा आनेवाले चित्र पहचान कर नाम लिखिए :

($\frac{1}{2} \times 3 = 1\frac{1}{2}$)

क)



ख)



ग)



घ)



ङ)



19. रेखांकित वर्ण जोड़कर शब्द बनाइए :

($\frac{1}{2} \times 4 = 2$)

क) खजूर - सीता

ख) जादू - धरा

ग) माला - तालाब

घ) कब - रस

20. सही या गलत लिखिए :

($\frac{1}{2} \times 5 = 2\frac{1}{2}$)

क) राजा झूटपट बाहर आ।

ख) उधर एक भालू खड़ा था।

ग) नीना सीता-राम की उपासना की।

घ) जादूगरनी हरा रंग का रुमाल लाई।

ङ) ऋतु का बगीचा छोटा था।

21. पूरा कीजिए :

($\frac{1}{2} \times 5 = 2\frac{1}{2}$)

क) _____ इधर आ। (नमन, अमन)

ख) राधा झटपट _____ आ। (अंदर, बाहर)

ग) कुसुम _____ गई। (फुलवारी, चिड़ियाघर)

घ) उधर एक _____ खड़ा था। (भालू, जिराफ़)

ङ) _____ का बगीचा खूब बड़ा था। (ऋतु, टीना)

22. उत्तर लिखिए :

($1 \times 5 = 5$)

क) नीना की सखी का नाम क्या था?

ख) जादूगरनी क्या पहनकर आई?

ग) दीवार पर क्या सजाई?

घ) कैसा बादल आया?

ग) चिड़ियाघर का उपवन कैसा था?

* * * * *