

देवमाता सी. एम.आई. पब्लिक स्कूल
अर्धवार्षिक परीक्षा 2017-18

कक्षा : I ____

हिन्दी

समय : 2 घंटे

अंक : 50

नाम : _____

क्र. सं : _____

1. चित्र का पहला वर्ण लिखिए:

(1x5=5)

क)



ख)




ग)



घ)



ङ)



2. पूरा कीजिए :

($\frac{1}{2} \times 4 = 2$)

क) च छ _____ ज

ख) क _____ ग _____ ङ


3. गोला लगाइए :

(1x3=3)


क) 'ए' से शुरू होनेवाले चित्र पर गोला लगाइए



ख) 'औ' से शुरू होनेवाले चित्र पर गोला लगाइए



ग) 'ई' से शुरू होनेवाले चित्र पर गोला लगाइए



4. बीच का अक्षर लिखिए :

(1x4=4)

क) ई _____ ऊ

ख) ट _____ ड

ग) ऋ _____ ऐ

घ) अ _____ इ

5. चित्र के पहले वर्ण पर गोला लगाइए :

(1x5=5)

क)



आ, च, ए

ख)



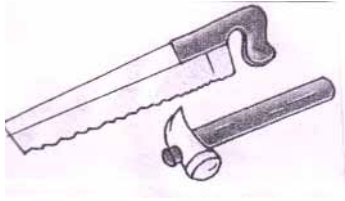
छ, ग, ज

ग)



इ, ग, झ

घ)



औ, उ, क

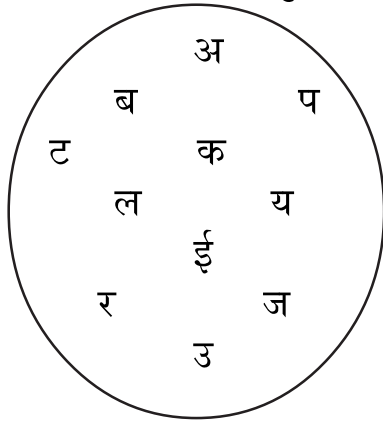
ङ)



अं, ऋ, ए

6. पढ़े गए वर्णों को चुनकर लिखिए :

($\frac{1}{2} \times 6 = 3$)



_____	_____	_____
_____	_____	_____
_____	_____	_____
_____	_____	_____

7. बाद का अक्षर लिखिए :

($\frac{1}{2} \times 6 = 3$)

क) ऊ _____ ख) ड _____ ग) ऐ _____

घ) झ _____ ङ) ढ _____ च) अं _____

8. सही मिलान कीजिए :

($\frac{1}{2} \times 5 = 2\frac{1}{2}$)

क)



ख)



ग)



घ)



ङ)



ग

ऊ

छ

अ

ड

9. वर्णक्रमानुसार लिखिए :

($2\frac{1}{2} \times 3 = 7\frac{1}{2}$)

क) ण ट ड ठ ढ


ख) आ ई अ इ उ

ग) ऐ अं औ अः ओ

10. दिए गए चित्रों के पहले वर्ण पर का निशान लगाइए :

($1 \times 6 = 6$)

क)



ख)



ड ऋ ठ

अ ट प

ग)




इ	ज	ज
---	---	---

घ)



ग	छ	न
---	---	---

ङ)



उ	क	अं
---	---	----

च)




ण	य	च
---	---	---

11. चित्रों के साथ दिए गए वर्ण सही या गलत लिखें :

(1x6=6)

क)



ग	
---	--

ख)



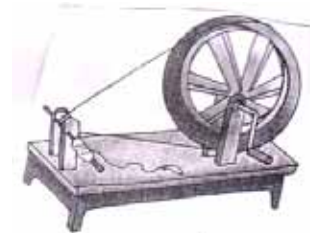
ङ	
---	--

ग)



ट	
---	--

घ)




छ	
---	--

ड)



ऋ	
---	--

च)



क	
---	--

12. पहला वर्ण लिखिए :

($\frac{1}{2} \times 6 = 3$)

क) _____ ज

ख) _____ ख

ग) _____ ठ

घ) _____ ण

ड) _____ ओ

च) _____ आ

* * * * *